

班级名称	课时	授课内容	价格
面试钜惠特训班	5天5晚	详询各地中公金融人	15800元, 不过全退 13800元, 笔试不过退13000元 面试不过退12000元
面试钜惠特训班	4天4晚	详询各地中公金融人	13800元, 不过全退 11800元, 笔试不过退11000元 面试不过退10000元

**2019银行春招面试群：709189849**

## 2019 工行历年真题汇编

### 南亚

【2017-工行】在快节奏生活的当下，不少事物的生产创造似乎也加速起来。比如各类技能培训，只要有钱，到处都是班，两三个月就能拿到一本证书。写书、拍电视剧等等，也无不可以速成。

一些以次充好的假冒伪劣“速成”产品，一些偷工减料的“速成”工程等等，多是以牺牲质量或成效，乃至牺牲安全为代价，这样的速成不仅无益，而且有害。

常言道：慢工出细活，文火煲靓汤。很多事急不得，更速成不得。古人对事物的创造，往往（ ），不尚速成。如丝绸、瓷器、漆器、金银器等各类技艺精湛的手工艺品，饱蘸着匠人们对自然地敬畏、对创造的虔诚、对工序的苛求。有多少巨匠们一声默默无闻，远离名利场，只为了完成一件作品、办好一件事情。盛于魏晋时期的“百炼钢”之术，其制作过程需工匠吧精铁加热锻打一百多次，一锻一称，直到斤两不减，如此千锤百炼，最终锻出高纯度的器具。这一丝不苟的工序，精湛的技术，专注地追求。精益求精的精神，正是我们今天所倡导的“工匠精神”。

其实，不管是科技研究、手工制造、养殖种植，还是行医执教、著书立说，行业千万种，从业者至少都应该有一颗基本的“匠心”。这颗匠心，不仅是对规律的尊重，

对创造的敬畏，更是一种一丝不苟、追求卓越的精神。养此匠心，则会耐得住寂寞，坐得住冷板凳，下的了苦功夫，生出一种宁静致远、潜心于事的定力。涵养工匠精神，容不得浮躁，容不得唯利是图，容不得急功近利的“速成”、

“速成”是匠心的克星，欲养匠心，必戒“速成心”。多少粗制滥造、苏生速朽的物事告诉我们，急于求成于事无益，急功近利更难立身。唯养一颗匠心，不迷于声色，不惑于杂乱，沉潜自己、专注一事，方能有所成。有所立。

1.将以下几句重新排列组合，填入文中划线处最恰当的一项是：

- (1) 随着科技的进步，很多事情确实可以做到事半功倍。
- (2) 但实践也告诉我们，有些时候“欲速则不达”，一味地追求速成不是好事
- (3) 现代社会，时间就是生命，办事讲效率没有错。
- (4) 正所谓“十月怀胎，一朝分娩”事物的成长发展往往有其规律，那些违背规律的速成，往往就会先天不足，无异于拔苗助长。

- A. (3) (4) (1) (2)
- B. (1) (2) (3) (4)
- C. (1) (3) (2) (4)
- D. (3) (1) (2) (4)

2.文中括号内应填入的词语最恰当的是：

- A.别出心裁
- B.独具匠心
- C.匠心独运
- D.独树一帜

3.以下对于“匠心”的含义不正确的是：

- A.精湛的技术
- B.潜心于事
- C.尊重规律
- D.欲速则不达

4.以下事实最能支持作者观点的是：

- A.某驾驶员从业 34 年，行驶里程 200 万公里，累计接送乘客 30 万人次
- B.中国制造业规模占全球大概 20%左右，名列第一位，制造业门类也是最全的
- C.某特种熔融焊接工，35 年如一日专注焊接工作，曾挑战过 0.08 毫米的最薄记录
- D.中国高铁已经成为中国铁路技术的一项代名词，逐步走向国际化

5.关于本文的主旨，概括最恰当的是：

- A.这个时代，我们为什么需要匠心

- B.解码“匠心精神”
- C.别让速成毁了匠心
- D.中国制造需要匠心精神

【2017-工行】黑匣子：学名叫飞行参数记录仪，20世纪40年代初被广泛运用于各种飞机。它是一种专用的磁性记录器，主要由两部分组成：驾驶舱话音记录器和飞行数据记录器。黑匣子能经得起强大的冲击力和1100℃的高温，还能耐浸泡、耐腐蚀，而且通常安装在飞机尾部相对安全的地方。因此，大部分空难事故后，包括空中解体、被烈火烧毁，人们都能找到黑匣子作为调查事故的重要（ ）。

6.填入括号内，最恰当的词语是：

- A.原因
- B.依据
- C.证据
- D.途径

7.可以替换横线处的词语是：

- A.承担
- B.接受
- C.承受
- D.受到

8.根据上述文字，下列选项表述最为准确的一项是：

A.黑匣子是能记录飞机起飞后的声音和数据，能承受强大的冲击力，耐高温、耐浸泡、耐腐蚀的飞行参数记录仪

B.黑匣子是20世纪40年代初被广泛运用于各种飞机，用于记录各种飞行数据的行参数记录仪

C.黑匣子能记录飞机起飞后的声音和数据，空难事故后都能通过黑匣子找到原因

D.黑匣子是一种专用的磁性录音器，飞机失事后人们可以找到它用来分析研究飞机失事原因

【2017-工行】面对经济危机，越来越多的大学生选择了自主创业，船业需要知识、激情、资金还有实践经验。而事实上，高校的课程设置偏重理论知识，培养大学生心里素质、竞争意识和实际操作能力方面的课程过少。大学生缺乏实际创业的基础，光凭着激情是无法取得创业的成功。国家支持大学生自主创业，为其提供了条件支持，但（ ）鼓励自主创业，却会导致学生在职业生涯道路上遭遇曲折。

9.填入括号内，最恰当的词语是：

- A.盲目
- B.鲁莽
- C.一味
- D.擅自

10.可以替换横线处的词语是:

- A.偏颇                      B.倚重                      C.偏袒                      D.侧重

11.这段话主要表明:

- A.大学生自主创业不能解决大学生就业难的问题  
 B.大学生应该降低就业预期,从基础岗位做起  
 C.国家应该调整高校的课程设置,提升大学生自主创业能力  
 D.国家在大学生就业过程中的引导作用很重要

12.依次填入下列各句划横线处的词语,与句意最贴切的一组是:

①据悉,\_\_\_\_\_飞机是一架二战时的“AT6-德克萨斯”小型飞机,飞机是在飞离陆地大约半英里的海面上空出事并坠毁的。

②今年以来,中央“扩内需、保增长、调结构”的战略决策,为\_\_\_\_\_全球金融危机立下了汗马功劳。

- A.失事    防范                                      B.出事    抵抗  
 C.出事    防御                                      D.失事    抵御

13.依次填入下列各句划横线处的词语,与句意最贴切的一组是:

①青城山为中国道教\_\_\_\_\_之一,属道教名山,位于四川省都江堰市西南。

②太极拳,是一种武术项目,也是健身项目,在中国有着\_\_\_\_\_的历史。

- A.源泉    源远流长                                      B.发源地    悠久  
 C.发祥地    久远    D.摇篮    长远

14.依次填入下列各句划横线处的词语,与句意最贴切的一组是:

(1)人类虽然已进入地球村时代,但曾经的同学、好友近在咫尺却不能谋面,我们会\_\_\_\_\_,往往又擦肩而过。

(2)在圣诞节那天,广场上的城堡中不时传出圣诞歌曲,很多外国人\_\_\_\_\_地手舞足蹈起来。

- A.不期而遇    情不自禁                                      B.不期而遇    不由自主  
 C.萍水相逢    情不自禁                                      D.萍水相逢    不由自主

15.依次填入下列各句划横线处的词语,与句意最贴切的一组是:

(1)赏着满桌让人\_\_\_\_\_的佳肴,品一杯醇厚芳香的葡萄美酒,无论有什么烦恼都会消散于令人迷醉的酒香之中。



19.蜂巢组织与高效企业存在着关键区别。首先，每项工作都与蜜蜂的年龄绑定。其次，单个蜜蜂所承担的那些任务在整个蜂巢被重复着成千上万次，最后，每项工作都对蜂巢的持续生存至关重要。但这一切并不牢靠，毁掉一代蜜蜂，没有哺育，没有新一代工蜂，没有清洁，蜂巢将被任何垂涎蜂蜜的动物侵入。

这段文字表达的主要观点：

- A.蜂巢组织的架构及其脆弱，这与高效企业不同
- B.蜂巢组织与高效企业在三个方面的相同性
- C.蜂巢组织与高效企业存在着关键区别
- D.高效企业要效仿蜂巢组织的架构

20.太阳能电池以为人们所熟悉，现在的太阳能电池，其能量转换率在 10%左右，因而用途有限。如果想获得较大的电功率，就需要昂贵的投资、巨大的装置，占用巨大的面积或空间。这实际上是不可行的。因为唯有在提高其能量转化率上下功夫，以拓展其应用范围。

这段话的主要观点是：

- A.太阳能电池面积越大，其能量转化率就越高
- B.太阳能电池的能量转化率越高，获得的电功率就越大
- C.太阳能电池的能量转化率越高，其所需面积就越小
- D.缺乏投资是太阳能电池难以得到广泛应用的原因

21. 宪法规定的公民基本权利中，以下不是公民基本政治权利的是：

- A.选举权和被选举权
- B.受教育权
- C.言论自由权
- D.游行、集会自由权

22. 供货方和需货方在合同中未明确约定货物交付地点，合同履行地是：

- A.供货方所在地
- B.需货方所在地
- C.供货方或需货方任意所在地
- D.供货方和需货方的中间地

23.（多选）新的《消费者权益保护法》中规定：消费者有权自收到商品之日起，七日内退货，且无需说明理由，但有些商品除外，以下不适用七日无理由退货的是：

- A.2015年9月18日发行的《江南晚报》
- B.淘宝网定制的一套家具
- C.鲜活的海蟹

D.从电视购物频道购买的豆浆机

24. 【2013-工行】债权人转让权利:

A.应当通知债务人

B.无需通知债务人

C.只需让与人知晓

D.无需让与人知晓

25. 【2015-工行】9月初,红宸宇达在诺鑫银行电商平台采购奖品,作为福利发放给员工。9月1日,红宸宇达向诺鑫银行发出采购要约。诺鑫银行于9月2日寄出承诺信件,9月8日信件寄达红宸宇达,恰逢相关负责人外出没有收到,9月10日该负责人获悉了该信内容,于9月12日电传告知诺鑫银行已收到承诺。该承诺生效日期为:

A.2014年9月2日

B.2014年9月10日

C.2014年9月12日

D.2014年9月8日

26. 【2016-工行】临近下班时,一位女士气呼呼的冲进咖啡店,要求见经理。你赶忙上前了解情况,原来事情是这样的:咖啡店一直为一家工艺品厂商代售工艺品,这位女士上午在店里买了一件工艺品作为礼物送给她的儿子,没想到她儿子刚玩了一会,就被工艺品底座上露出的金属划伤了手背。这位女士觉得,因咖啡店售卖的产品质量存在安全隐患,给客人造成了人身伤害,要求高价赔偿。

听完事情的经过,你回忆了《消费者权益保护法》的相关内容,认为这件事情应该如何处理?

A.告知这位女士应向工艺品厂商谋求赔偿

B.咖啡店先赔偿这位女士,然后再向工艺品厂商追赔

C.咖啡店先向工艺品厂商追赔之后,再赔偿这位女士

D.由工艺品厂商和咖啡店协商之后共同赔偿

27. 【2018-工行】太阳能是太阳内部连续不断的\_\_\_\_\_过程产生的能量。

A.核裂变反应

B.核辐射反应

C.核衰变反应

D.核聚变反应

28. 【2018-工行】纳米技术是用\_\_\_\_\_制造物质的科学技术。

- A.原子分解性
- B.单个原子、分子
- C.分子的粒子性
- D.分子的变异性

29. 【2018-工行】针对美国决定对进口\_\_\_\_\_产品采取限制措施，商务部有关负责人3月9日发表谈话称，美方这一措施是以国家安全为名，行贸易保护主义之实。中方将在评估美方措施给中方造成损失的基础上，采取有力措施，坚决维护自身正当权益。

- A.汽车
- B.矿产
- C.钢铁和铝
- D.手机

30. 【2018-工行】（多选）4月10日，习近平主席在博鳌亚洲论坛开幕式演讲中指出：中国开放的大门不会关闭，只会越开越大。在扩大开放方面，中国将采取以下重大措施：

- A.大幅度放宽市场准入
- B.创造更有吸引力的投资环境
- C.加强知识产权保护
- D.主动扩大进口

31. 【2018-工行】（多选）“坚守金融本质，把服务实体经济作为经营的根本”是中国工商银行2017年经营情况的主要特点之一，其具体表现在：

- A.金融精准扶贫贷款1270亿元，涉农贷款余额近1.9万亿元
- B.全年清收处置不良贷款1927亿元，处置回收率持续提升
- C.全年境内分行实际新投放人民币贷款2.3万亿元，非信贷融资增量超过万亿元
- D.主动对接“十三五”规划、“四大板块”，“三个支撑带”及雄安新区建设

32. 【2018-工行】国家统计局公布的国民经济运行数据显示，2017年，我国以\_\_\_\_\_为主线，推动结构化、动力转换和质量提升，国民经济稳中向好、好于预期，中国经济正周期迈向高质量发展阶段。



- A.经济改革
- B.深化结构性改革
- C.供给侧结构性改革
- D.深入体制改革

33. 【2018-工行】2018年4月2日，“天宫一号”目标飞行器已再入大气层，再入落区位于南太平洋中部区域，绝大部分器件在再入大气层过程中烧蚀销毁。对此，下列说法不正确的是：

- A.天宫一号发射标志着中国迈入中国航天“三步走”战略的第二步第二阶段
- B.天宫一号是中国首个目标飞行器和空间实验室，属于无人航天器
- C.天宫一号是中国第一个目标飞行器，于2011年在酒泉卫星发射中心发射
- D.2011年天宫一号与神舟八号配合圆满完成首次空间自主交会对接

34. 【2018-工行】截止2018年3月，中国工商银行已成为全球网络覆盖最广的中资金融机构，境外网络遍及全球\_\_\_\_\_国家地区，其中“一带一路”沿线\_\_\_\_\_个国家，境外机构总数达\_\_\_\_\_家。

- A.45,20,419
- B.40,15,399
- C.50,30,489
- D.65,40,539

35. 【2018-工行】3月12日上午，中共中央总书记、国家主席、中央军委主席习近平在出席十三届全国人大一次会议解放军和武警部队代表团全体会议时强调，实施\_\_\_\_\_战略是构建一体化国家战略体系和能力的必然选择，也是实现党在新时代的强军目标的必然选择。

- A.军民共同前进
- B.军民融合前进
- C.军民融合发展
- D.军民共同发展

36. 【2018-工行】（多选）2018《政府工作报告》中提到的“过去五年，中国特色大国外交全面推进”具体体现在：

- A.成功举办二十国集团领导人杭州峰会

- B.成功举办亚太经济合作组织领导人非正式会议、金砖国家领导人厦门会晤
- C.习近平主席等国家领导人出访多国，出席联合国系列峰会、气候变化大会、世界经济论坛、东南亚合作领导人会议
- D.成功举办首届“一带一路”国际合作高峰论坛
37. 艾滋病被称为 20 世纪的瘟疫，艾滋病毒以人体内的\_\_\_\_\_作为攻击目标。
- A.红细胞            B.血红蛋白            C.淋巴细胞            D.神经系统
38. 云、雨、雪等天气现象出现在大气的：
- A.对流层            B.平流层            C.中间层            D.暖层
39. 《清明上河图》描绘的是汴京清明时节的繁荣景象，是汴京当年繁华的见证，也是\_\_\_\_\_城市经济情况的写照。
- A.秦代            B.西汉            C.北宋            D.隋代
40. 2018 年 5 月 30 日，李克强主持召开国务院常务会议，决定较大范围\_\_\_\_\_日用消费品进口关税，更好满足群众多样化消费需求；部署建立\_\_\_\_\_制度，给他们更多帮扶和关爱。
- A.下调 困难群体疾病救助            B.上调 困难群体疾病救助
- C.下调 残疾儿童康复救助            D.上调 残疾儿童康复救助
41. 【2018-工行】图灵测试的标准是当超过（ ）的测试者不能确定被测试者是人还是机器，那么这台机器就通过了测试，并被认为具有人类智能。
- A.40%            B.30%
- C.50%            D.60%
42. 【2018-工行】计算机管理系统的本质是（ ）。
- A.数据仓库系统            B.大型网络系统
- C.人机管理系统            D.人工智能系统
43. 【2017-工行】业界通常用 4 个 V（即 Volume、Variety、Value、Velocity）来概括大数据的特征，这 4 个 V 分别是指（ ）。
- A.数据体量巨大、数据类型繁多、价值密度低、处理速度快
- B.数据体量巨大、处理速度快、价值密度高、数据类型繁多
- C.数据体量巨大、处理速度快、价值密度低、数据类型繁多
- D.数据体量巨大、数据类型繁多、价值密度高、处理速度快

- 44.下面列出了安全电子交易 SET 达到的主要目标,其中哪一个是错误的( )。
- A.信息在公共 Internet 网络上以安全 E-mail 方式传输,保证数据不被黑客窃取
  - B.订单信息和个人账号信息隔离。在将包括持卡人账号信息在内的订单送到商家时,商家只能看到订货信息,而不能看到持卡人的账号信息
  - C.持卡人和商家相互认证,以确保交易各方的真实身份
  - D.软件遵循相同的协议和消息格式

## 西亚

1.【2016-工行】已知万千阁是彩虹岛上一座古老的阁楼,高八十丈。万千阁楼高三层,一层最高,比二层高出 6 丈;三层最低,4 个三层的高度只相当于一层、二层的总高度。此时有一阁楼的模型一尺相当于万千阁二十丈。请计算一下这阁楼模型第一层的高度是多少?

- A.1.75                      B.1.35                      C.1.85                      D.1.55

2.【2018-工行】在博览会上,汽车销售商、生产商、零售商、三家公司谈判愉快,准备签署合作协议,但是他们忘记带重要的文件,于是他们匆匆赶到机场。分别乘坐甲、乙、丙三架飞机回各自公司取文件,三架飞机于上午 11:00 同时从机场出发,再次回到机场的时间为甲往返要 4 小时,乙往返要 2.5 小时,丙往返要 5 小时。假设这三架飞机中途不休息,请问他们下次同时到达该机场的时间将会是( )。

- A.11 点整                      B.11 点 40 分                      C.7 点整                      D.12 点整

3.【2018-工行】销售人员出售两种规格的溶液,中瓶每瓶 7 元,小瓶每瓶 3 元。顾客要用 60 元买这两种瓶的溶液,且正好花完。那么,他最多能买到中瓶和小瓶两种溶液共( )瓶。

- A.4                              B.8                              C.12                              D.16

4.【2017-工行】现有 A、B、C 三种质量相等的液体,他们的密度分别为 6.6kg/L、9kg/L、9.9kg/L。如果把三种液体混在一起,那么混合液体的密度为( ) kg/L。

- A.8.5                              B.7.75                              C.8.75                              D.8.25

5.【2017-工行】公司某部门的员工的平均年龄是 35 岁，其中四分之三的人在 30 岁以上，他们的平均年龄是 40 岁，另外四分之一的人平均年龄是（ ）岁。

- A.25                                      B.20                                      C.27                                      D.18

6.【2017-工行】图书馆新进一批图书，分科普、小说与英语阅读三类，已知小说是英语阅读的 3 倍，科普类图书是英语阅读的 5 倍。如果小说比科普类少 46 本书，那么图书馆共进图书（ ）本。

- A207                                      B210                                      C218                                      D222

7.红宸宇达的发展势头很好，去年的税前利润比前年增加了 25%，上缴国家利税 1200 万元后，还余 3/4，那么前年的税前利润为（ ）万元。

- A.2880                                      B.3600                                      C.4800                                      D.3840

8.【2018-工行】西亚另外一个零件公司负责为中国汽车生产商加工汽车零件。他们现在有原材料 500 吨需要在 20 日刚好将这 500 吨原材料全部加工成零件提供给中国汽车生产商。该公司每日只能加工一种零件，精密零件或普通零件。加工精密零件每日消耗原材料 10 吨，加工普通零件每日消耗原材料 30 吨，加工精密零件每消耗一吨原材料可以盈利 1050 元，加工普通零件每消耗一吨原材料可以盈利 270 元，请你帮助他们计算一下，该公司完成这项工作后可以盈利（ ）元。

- A.174000                                      B.162000                                      C.210000                                      D.486000

9.【2018-工行】往前走，你来到瓷器展区。西亚人民非常喜欢中国精美的瓷器。中国瓷器在西亚非常畅销。本次展会上，西亚的甲乙两家瓷器进口商，一共从中国进口了单色釉瓷和彩绘瓷共 160 件。目前两家的瓷器都混在了一起。甲进口商的瓷器中有 17%是单色釉瓷；乙进口商的瓷器中有 20%是单色釉瓷，乙进口商进口的彩绘瓷共有（ ）件。

- A.75                                      B.96                                      C.66                                      D.48

10.一队伍用船在一条河中运送粮食，需要从 A 地往下游 B 地运送，已知水的流速一定且为 5 米/秒，船在满载时的速度是空载时速度的 1/2，空载时的速度是 10 米/秒，A、B 两地距离为 500 米，忽略除路程时间外的其他时间，问船打一个来回即从 A 到 B 再返回 A 需要多长时间？

- A.2 分钟                                      B.3 分钟  
C.2 分钟 30 秒                                      D.2 分钟 45 秒

11.【2018-工行】某化工公司，正在调配一种新型涂料，该 Z 型号涂料是由 X 型号和 Y 型号的涂料配成的。X 型号涂料每千克 10 元，Y 型号涂料每千克 15 元。如果花同样的钱分别购买 X 型号、Y 型号两种涂料配成 Z 型号新型涂料，那么配成的 Z 型号新型涂料每千克（ ）元。

- A.13                      B.12                      C.14                      D.11

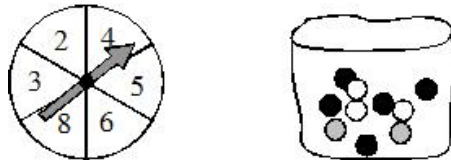
12.有一个项目报告的书写由 A、B 两人共同完成，A 单独写 20 分钟可以写完，B 单独写 30 分钟可以写完。现在两个人同时书写，10 分钟后 A 被调走做其他的工作，只有 B 继续写这个项目报告，请问这次项目报告的书写共用了（ ）分钟。

- A.5                      B.10                      C.15                      D.20

13.从甲、乙两车站同时相对开出第一辆公共汽车，此后两站每隔 8 分钟再开出一辆，以此类推。已知每辆车的车速相同且都是匀速的，每辆车到达对方站都需 45 分钟。现有一乘客坐甲站开出的第一辆车去乙站，请问她在路上会遇到（ ）从乙站开出的公共汽车。

- A.5 辆                      B.6 辆                      C.4 辆                      D.7 辆

14.【2017-工行】有一个转盘和一袋小球（见下图），每转一次转盘拿一次小球（不放回）。



如果每次随机从袋子中拿 1 个小球，若在保证取到两种颜色的小球，至少需要转几次转盘？

- A.6                      B.9                      C.4                      D.3

15.【2017-工行】张某与李某玩猜谜语游戏，游戏规则为每猜对一题得 2 分，猜错一题扣 1 分，已知两人各猜了 15 题后，两人得分和为 42 分，张某比李某得分多 12 分，则李某猜对了（ ）个题目。

- A.8                      B.9                      C.12                      D.10

16.编一本有 698 页的书，所有的页码总共需要用到多少个数字（如第 23 页用了 2 个数字，第 122 页用了 3 个数字，第 666 页也用了 3 个数字）？

- A.1924                      B.1962                      C.1986                      D.1996

17.【2018-工行】甲乙丙三家基金公司对第一季度营收进行了分析，甲公司净收入的  $\frac{1}{4}$  等于乙公司的  $\frac{1}{6}$ ；乙公司将净收入的  $\frac{3}{4}$  等于丙公司的净收入的  $\frac{4}{5}$ ；结果丙公司比甲公司多挣 130 万，乙公司挣了（ ）万元钱。

- A.420                      B.480                      C.430                      D.470

18.国庆期间，宣传部门准备用红、黄两色鲜花组成实心方阵(所有花盆大小一致)，最外层是黄花，从外往内每层按黄花、红花相间摆放。如果最外层一圈的正方形有黄花 44 盆，那么完成造型共需黄花（ ）。

- A.84                      B.80                      C.82                      D.85

19.某制鞋厂的工人每人每天可以生产 6 双鞋垫或 2 双鞋，一双鞋垫和一双鞋为一套。已知该厂有 180 名工人，则每天最多可以生产（ ）套鞋垫与鞋。

- A.260                      B.280                      C.270                      D.290

20.沙龙之后，诺鑫银行的网上商城推出了针对其客户企业的促销活动，活动上线前 12 天的销售额分别是(万元)：1217.7、1217.8、1218.1、1218.4、1218.0、1217.7、1217.9、1218.6、1218.2、1217.5、1218.8、1218.5，那么这 12 天的日均销售额是（ ）万元。

- A.1217.9                      B.1218.1                      C.1218.2                      D.1218.0

21.【2018-工行】 $35978-31534+44576-40132+15498-11054+79466-75022+87690-83246=$ （ ）。

- A. 2222                      B. 22220                      C.1                      D. 0

22.一艘游轮往返于 A、B 两港口间，已知水速为 6 千米每小时，该船从 A 到 B 需要 4 小时，从 B 到 A 需 5 小时，问 A、B 两港口的距离为（ ）。

- A.220 千米                      B.240 千米                      C.200 千米                      D.180 千米

23.一辆汽车所带的燃料最多可以用 5 个小时，汽车去时逆风，速度为 80 千米/时，回来是顺风，速度为 120 千米/时，那么这辆汽车最多行驶出（ ）千米就需要往回行驶，以便能回到原地。

- A.240                      B.300                      C.120                      D.500

24.一个钟表由于电池存在问题，所以每个小时都会慢 4 分钟，现在于晚上 22:00 时将该钟对成标准的时间，则当这个钟显示早晨 06:10 时，实际的时间为（ ）。

- A.06:50                      B.06:45                      C.07:00                      D.06:30

25. 【2017-工行】某公司新员工入职培训，要求新员工排成一方阵。第一次组成方阵时缺少 80 人，于是对方阵进行调整，每排减少了 4 个人，这时有 24 人没有位置。请问，该公司这次招聘了（ ）名新员工。

- A.384                      B.305                      C.225                      D.145

26. 【2018-工行】你看到一家参展商，正在搭建自己的展台，需要 3 米长和 4 米长的铁条各 100 根。现在只有 10 米/根的铁条，可将 10 米的铁条截成 3 米长的和 4 米长的。为了最省材料，至少需要（ ）根 10 米的原材料铁条。

- A.100                      B.75                      C.200                      D.50

27. 【2017-工行】 $2016 \times 2017 - 2017 \times 2016 =$ （ ）。

- A.-1                      B.1                      C.2                      D.0

28. 【2018-工行】在博览会上设置了五个奖项。A 公司的产品参加了所有的五个奖项的评比，这五个奖项的计分规则都是百分制。A 公司产品的成绩如下：甲奖项得到 94 分，乙奖项得分最高，丙奖项得分等于甲奖项和丁奖项的平均分。丁奖项的得分等于五个奖项的平均分，戊奖项得分比丙奖项多 2 分，并且是五个奖项中第二高的分数了。A 公司产品在丁奖项得了（ ）分。

- A.95                      B.94                      C.96                      D.97

29. 风险管理部的马亮正在阅读一本 460 页的培训教材。其他部门同事请他去解决一个专业问题，马良随手将书签夹在了培训教材里。回来后，他忘记书签夹在哪一页了，只记得是 150 页附近。据此判断，书签应该夹在（ ）页之间。

- A.149-150                      B.147-148                      C.151-152                      D.150-151

30. 【2018-工行】 $486 \div (243 \div 973) \div (973 \div 575) \div (575 \div 25) \div (25 \div 137) \div (137 \div 23) \div (23 \div 2) =$ （ ）。

- A.4                      B.243                      C.486                      D.1

中亚

【2017-工行】一组图形经过特殊的变换输出另一组图形，变换过程用下列符号表示。据此回答 1~3 题。

符号	说明	样例
⊙	改变所有圆形的颜色	
Ⓟ	改变所有正方形的颜色	
Ⓢ	将所有圆形变成正方形	

1. 请根据符号意义，选择填入问号处正确的一项。

A.

B.

C.

D.

E.

2. 请根据符号含义，选择填入问号正确的一项。

A.

B.

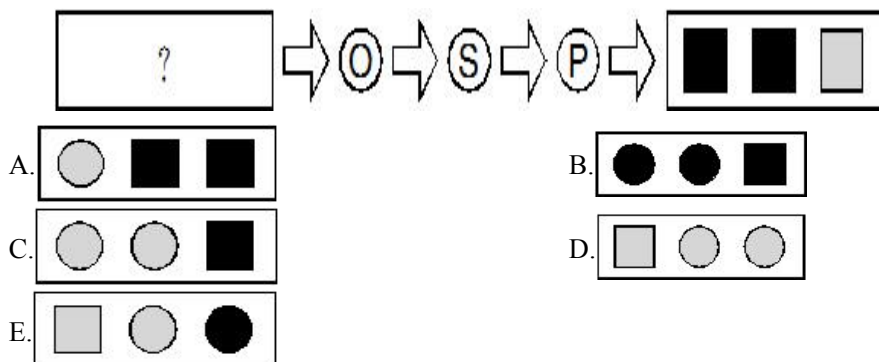
C.

D.

E.

3. 请根据符号含义，选择填入问号正确的一项。

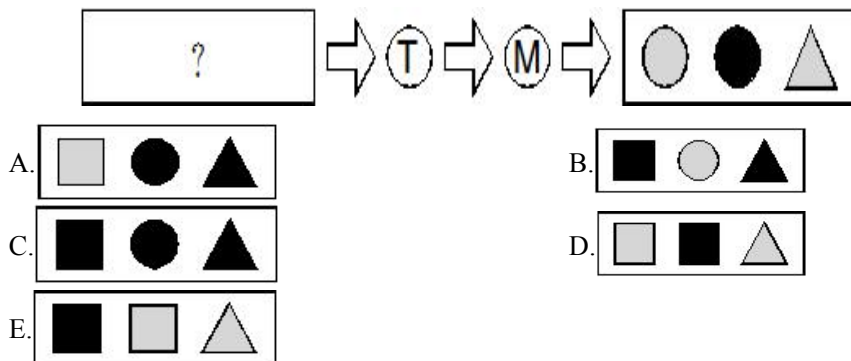




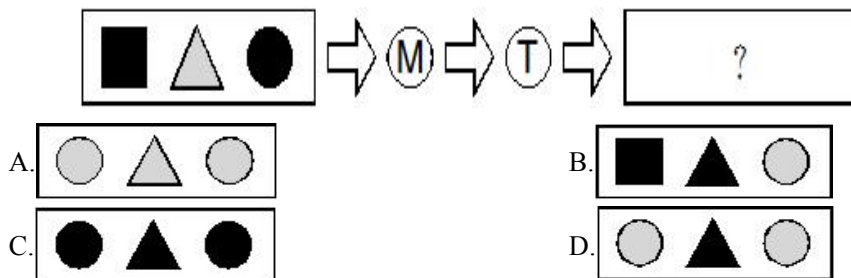
【2017-工行】一组图形经过特殊的变换输出另一组图形，变换过程用下列符号表示。据此回答 4~5 题。

符号	说明	样例
Ⓜ	改变所有形状的颜色	
Ⓣ	将所有正方形变成圆形	

4.请根据符号含义，选择填入问号处正确的一项。

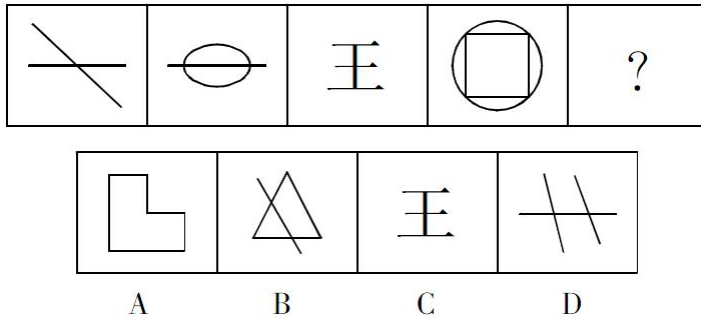


5.请根据符号含义，选择填入问号处正确的一项。

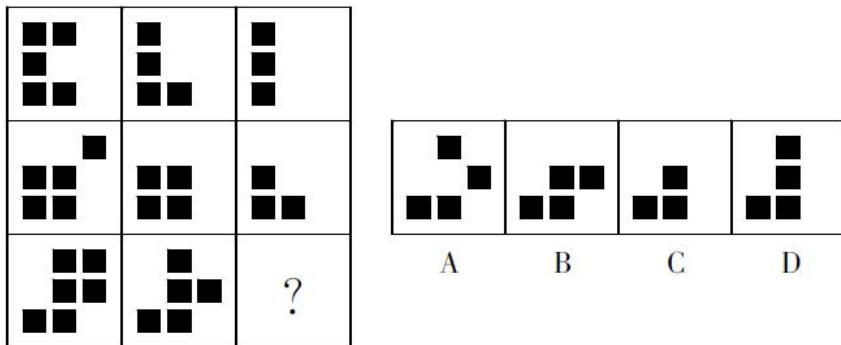




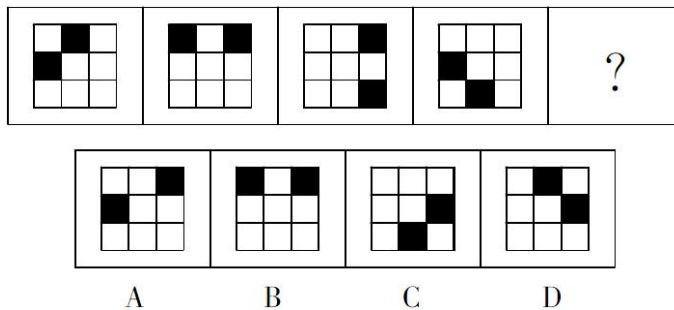
6. 【2018-工行】学者 D 选了一本关于图形推理的书。其中有一题很有趣，学者 D 想考考你，请你从所给的选择项中，选出最合适的一项填在问号处，使之呈现一定的规律性。



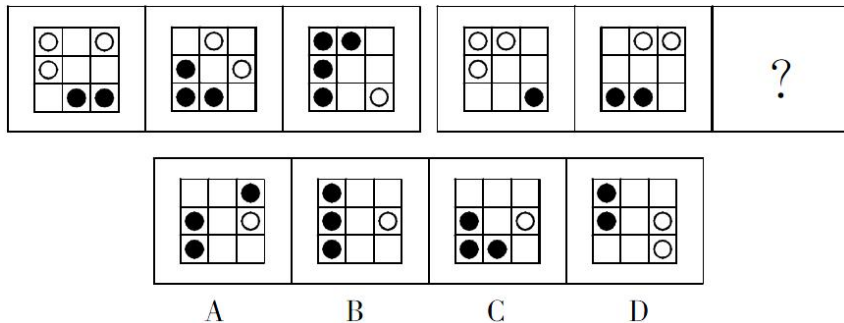
7. 【2018-工行】



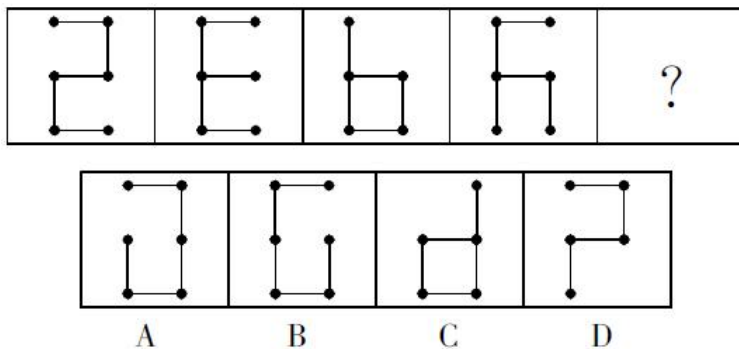
8. 【2018-工行】学者 G 也拿出一个方格的游戏，看大家谁能做的出来。根据前四幅图片的规律，你能选出正确的第五幅图吗？



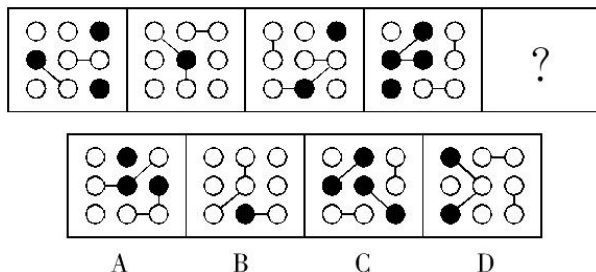
9.【2018-工行】学者 H 在玩一个看似很难的黑白棋的游戏。你要从前三幅图片中，找到游戏规律，然后选出问号处的图案，你就可以获胜。那么你应该为问号处选择哪一幅图案呢？



10.【2018-工行】学者 J 正在玩火柴棒游戏。他用五根火柴棒依次拼了 4 个图形，这四个图形是有一定规律的。你能找出火柴棒的规律，并在问号处选出正确的图形吗？

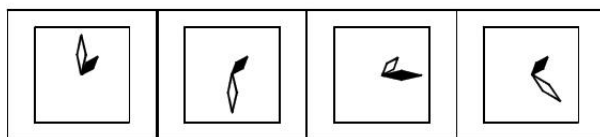
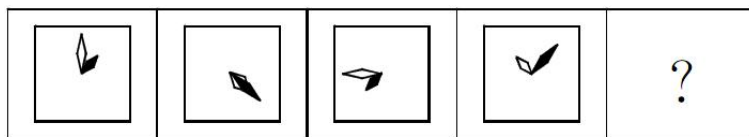


11.从所给的四个选项中，选择最合适的一个填入问号处，使之呈现一定的规律性：



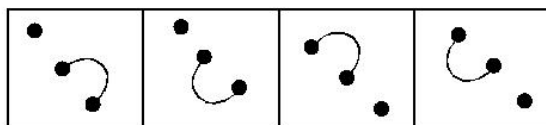
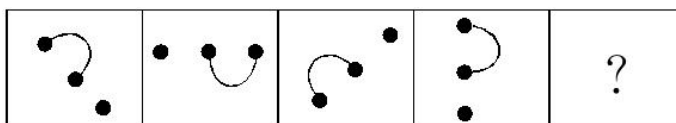
12.把下面的六个图形分为两类，使每一类图形都有各自的共同特征或规律，分类正确的一项是：





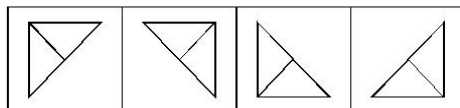
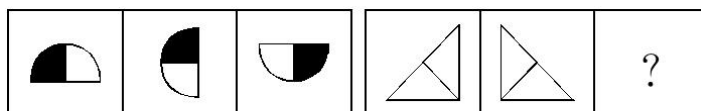
A B C D

16. 从所给四个选项中，选择最合适的一个填入问号处，使之呈现一定的规律性：



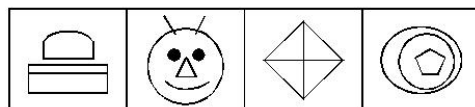
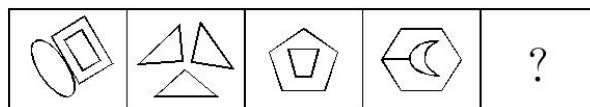
A B C D

17. 从所给四个选项中，选择最合适的一个填入问号处，使之呈现一定的规律性：



A B C D

18. 从所给的四个选项中，选择最合适的一个填入问号处，使之呈现一定的规律性：



A B C D

19. 【2018-工行】43，31，21，13，7，（ ）



- A.同业拆借  
B.发放贷款  
C.资金清算  
D.市场交易

5. 【2018-工行】在金融监管的对象中，一国的整个金融体系都可视为金融监管的对象，报考国内银行业和非银行金融机构等，以下属于准金融机构的是（ ）。

- A.小额信贷公司  
B.城市商业银行  
C.基金管理公司  
D.银行附属公司

6. 【2018-工行】股票估值中的绝对估值，是通过对公司历史及当前的基本面的分析和对未来反应公司经营状况的财务数据的预测获得上市公司股票的内在价值。以下属于绝对估值的方法是（ ）。

- A.现金流贴现定价模型  
B.企业价值倍数估值法  
C.市盈率 PE 估值方法  
D.EV/EBITDAR 倍数法

7. 【2018-工行】产业投资基金一般是指向具有高增长潜力的未上市企业进行股权或准股权投资，并参与被投资企业的经营管理，以期所投资企业发育成熟后通过股权转让实现资本增值，关于契约型产业投资基金的说法错误的是（ ）。

A.契约型产业投资基金的投资不是股东，仅是信托契约的当事人和基金的受益者，无权参与管理决策

B.契约型产业投资基金不是法人，必须委托管理公司管理运作基金资产，所有权和经营权彻底分离

C.是以股份公司形式存在或者以有限合伙形式设立，基金的每个投资者都是基金公司的股东或者投资人

D.由于管理公司拥有充分的管理和运作基金的权力，基金资产的支配不会被追求短期利益的意图所影响

8. 如果某投资者拥有一份期权合约，使其有权在某一确定时间内以确定的价格购买相关的资产，则该投资者是（ ）。

- A.看跌期权的卖方  
B.看涨期权的卖方  
C.看跌期权的买方  
D.看涨期权的买方

9. 下列关于凯恩斯货币需求函数的表述，正确的是（ ）。

- A.交易性货币需求是收入的增函数，投机性货币需求是利率的减函数  
B.交易性货币需求是收入的减函数，投机性货币需求是利率的减函数

C.交易性货币需求是收入的增函数，投机性货币需求是利率的增函数

D.交易性货币需求是收入的减函数，投机性货币需求是利率的增函数

10. 既可以调节货币总量又可以调节信贷结构的货币政策工具是（ ）。

A.公开市场业务

B.再贴现政策

C.法定准备金政策

D.窗口指导

11. 【2018-工行】预期通货膨胀理论由货币主义者提出，强调现在对未来的影响与其很相近的通货膨胀理论是（ ）。

A.结构性通货膨胀理论

B.需求拉上的通货膨胀理论

C.惯性通货膨胀理论

D.供给推动的通货膨胀理论

12. 【2017-工行】FM 汽车公司通过企业管理全面诊断调查，发现管理中的问题病区改进，完善管理方法、制度，调查过程中，FM 公司所有的部门的两位管理者接受访谈，在各个部门随即抽取的员工进行了问卷调差。根据分析结果，发现 FM 公司存在以下问题。

在进行问卷调查时，采用的抽样方法时（ ）。

A.方便抽样

B.分层随机抽样

C.整群抽样

D.滚雪球抽样

13. 【2016-工行】在反映社会经济现象总规模水平和工作总量的统计指标中，工业总产值属于（ ）。

A.质量指标，用相对数表示

B.数量指标，用绝对数表示

C.质量指标，用绝对数表示

D.数量指标，用相对数表示

14. 【2016-工行】消费指标主要有（ ）。

A.社会消费品零售总额、城乡居民储蓄的存款金额

B.社会消费品总额、城乡居民储蓄的存款金额



- C.社会零售总额、城乡居民储蓄的存款金额  
D.消费品零售总额、储蓄存款金额
- 15.根据美国经济学家科斯的企业理论，下列说法中正确的是（ ）。  
A.企业是市场机制的核心  
B.企业是市场机制的补充物  
C.签订、监督和执行契约所花费的成本就是全部的交易成本  
D.企业是为了节约交易成本而产生的
- 16.【2017-工行】出售资产筹资时，出售的资产被确认为“可供出售货币性项目”，其产生的“汇兑差额”应当计入（ ）。  
A.销售费用                      B.减值损失                      C.财务费用                      D.管理费用
- 17.【2017-工行】资产负债率是衡量公司经营状况的重要指标，以下关于资产负债率说法错误的是（ ）。  
A.资产负债率可以衡量企业在清算时保护债权人利益的程度  
B.企业的负债比率应在不发生偿债危机的情况下，尽可能择高  
C.资产负债率这个指标反应债权人所提供的资本全部资本的比例  
D.如果资产债比率不足 100%说明公司已经没有净资产或不抵债
- 18.【2018-工行】中国企业会计准则体系包括基本准则、具体准则和应用指南，具体准则是在基本准则的指导下，处理会计具体业务标准的规范，其内容不包括（ ）。  
A.会计框架准则                      B.财务报告准则  
C.一般业务准则                      D.特殊行业和特殊业务准则
- 19.【2018-工行】会计分录在实际工作中，是通过填制记账凭证来实现的，它是保证会计记录正确可靠的重要环节，会计分录有两种，即（ ）。  
A.标准分录和特殊分录                      B.单一分录和综合分录  
C.简单分录和复杂分录                      D.简单分录和复合分录
- 20.【2018-工行】通过资产负债表不能了解（ ）。  
A.企业的经济资源及分布的情况                      B.企业资产负债率  
C.企业固定资产的新旧程度                      D.企业的财务成果及其形成过程
- 21.【2018-工行】法律格言云：“不确定性在法律中受到非难,但极度的确定性反而有损确定性。”对此,下列哪项说法不正确?

- A.通过法律原则、概括条款,可增强法律的适应性
- B.借助法律推理和法律解释,可提高法律的确定性
- C.凡规定义务的,即属于极度确定的,凡规定权利的,即属于不确定的
- D.在法律中允许有内容本身不确定,而是可以援引其他相关内容规定的规范

22. 【2018-工行】(多选)《中华人民共和国民法总则》规定,承担民事责任的方式主要有:

- A.赔偿损失
- B.停止侵害
- C.返还财产
- D.赔礼道歉

23. 【2018-工行】云计算(cloudcomputing)是基于互联网的相关服务的增加、使用和交付模式,通常涉及通过互联网来提供动态易扩展且经常是虚拟化的资源。下列关于云计算特点说法错误的是:

- A.规模超大
- B.可靠性较高
- C.潜在的威胁性
- D.价格昂贵

24. 【2018-工行】我国自主研发的新一代喷气式大型客机 C919 在上海浦东机场首飞成功,这标志着中国成为世界上少数几个拥有研发制造大型客机能力的国家之一。打破了少数制造商长期形成的高度垄断,在潜力巨大的民航客机市场占据了一席之地。关于 C919,下列说法不正确的是:

- A.生产制造 C919 件虽然耗时长,但都是国内自主研发制造
- B.标志着中国将跻身少数能够自主制造大型客机的国家行列
- C.919 不论是外形还是内部布局,都是中国自己设计完成的
- D.919 是我国首款具有自主知识产权的大型喷气式民用飞机

25. 【2018-工行】第十三届全国人民代表大会第一次会议,2018年3月11日表决通过了宪法修正案,确立了\_\_\_\_\_作为国家机构的宪法地位。这是以习近平同志为核心的党中央作出的重大决策部署,体现了党的主张和人民意志,为深化国家监督体制改革、强化党和国家自我监督提供了根本法保障。

- A. 监察委员会
- B. 监督委员会
- C. 督察委员会
- D. 监管委员会

26. 2018 年\_\_\_\_\_是新修订的环境保护法规定的第\_\_\_\_\_个环境日,也是世界环境日。

- A. 6 月 5 日 4
- B. 6 月 6 日 3
- C. 6 月 7 日 2
- D. 6 月 8 日 1

## 欧洲

### Passage 1 【2018-工行】

The best-selling sports drink, Zumo, is produced by Zumospa, a food and drinks company based in Valencia, Spain. In the last financial year, Zumo contributed 30 million Euros to Zumospa's annual sales revenue, accounting for 20% of the company's total turnover. It is, in fact, Zumospa's cash cow, generating more revenue than any other of its products.

At present, Zumo is sold only in Europe. However, the sports drink market is the most rapidly growing segment of the world beverage market. Zumospa is now looking outside Spain for markets and would like to make Zumo a global brand.

Zumospa needs to reposition Zumo for the global market. Initial research suggests that Zumo is perceived as a Spanish drink, and its close identification with Spain may not be suitable when developing a global brand.

1. What is Zumo?

- A. It is a food and drink company.
- B. It is a sports drink.
- C. It is a soft drink.
- D. It is a Spanish food.

2. Approximately what is Zumospa's total turnover?

- A. 30 million euros.
- B. 20 million euros.
- C. 150 million euros.
- D. 100 million euros.

3. What can be inferred from the article?

- A. A Spanish identification is not suitable for Zumo to tap into global market.
- B. Zumo is available in Europe and North America.
- C. Zumospa only produces sports drinks.
- D. Zumo does not need to change its brand name.

**Passage 2 【2018-工行】**

China is an emerging economic giant with almost endless potential for business opportunities. Guan xi — meaning “connections” or “relationships” — is a Chinese way of doing business and is practically considered an art form there. It involves exchanging “favors” when you need something done. Many Chinese business people see it as a way to solidify relationships, get things done, and cultivate well-being.

To Westerners, however, it often looks more like graft in the form of bribery, nepotism, gift giving, and kickbacks. Transparency International, a German-based corruption watchdog, ranks China along with India, Russia, Turkey, Malaysia, and South Africa as the countries with the most rampant corruption.

However, China is cracking down by enacting stricter anti-corruption laws and prosecuting violators. In 2007, China’s former director of the State Food and Drug Administration was executed for taking bribes.

4. According to the passage, what is TRUE about Guan xi in the Chinese culture?

- A. It involves money and power.
- B. It requires you to exchange favors to get things done
- C. It is an art form of bribery in the business.
- D. It means connection or relationship among family members.

5. What can be inferred from the passage?

- A. Bribery, nepotism, gift giving, and kickbacks are illegal in the commercial activities.
- B. The German-based corruption watchdog is probably a committee which makes sure that companies do not act illegally or irresponsibly.

- C. Westerners are more critical about Guan xi in business.  
D. All of Above.
6. What's the tone of the passage?
- A. skeptical  
B. positive  
C. sarcastic  
D. objective

### Passage 3 【2017-工行】

From: Gloria Richter

To: Gunther Schmidt

Subject: E-mails;staff lounge;communication problems

Date: March 3

There are some communication problems I wish to bring to your attention.

1. Each day we receive a huge number of emails from colleagues inside the company and from overseas customers. Some are important, many are not. My staff seems to spend all day checking and sorting emails, which is time-consuming and results in them neglecting other duties.

2. My staff doesn't understand why you got rid of the staff lounge after the takeover. They say that it used to be a good place to meet people from other departments and exchange ideas. Most of them still have not met anyone from Sanicorp yet.

3. A lot of middle managers are really confused about who they should report to. We know management are planning a reorganization, but isn't it time they told us what's happening?

7. What is the purpose of this email?
- A. To reflect a few problems and demand solutions  
B. To announce a change of the management  
C. To remind employees of a new company policy  
D. To inform the staff of the completion of a new staff lounge
8. What can be inferred from the email?
- A. Gloria Richter is very dissatisfied with the present condition

- B. Gunther Schmidt is the new manager
  - C. Gloria's company is currently undergoing a restructuring
  - D. Gloria Richter used to work for Sanicorp
9. What is NOT requested by Gloria Richter in this email?
- A. More investment in the well-being of the staff
  - B. An efficient way for the staff to deal with the large number of emails
  - C. Reopening of the staff lounge
  - D. A clarification of whom the staff should report their work to

**Passage 4 【2017-工行】**

From: Iris Wu

To: Tim Appleby

Subject: Marketing issues

Date: May 3

Hi Tim,

Can you schedule a conference call for all our marketing directors, me included, to discuss the launch of the new appliance line? Please note that our offices in the Philippines and France are, respectively, twelve and six hours ahead of us. Therefore, kindly remind the directors that the call may have to occur outside of business hours.

The meeting should be arranged before the new product presentations on May 26. I recommend scheduling the call on May 14 or 15 to allow sufficient time for the appliance information charts to be updated with any suggested changes. Should a different date be more convenient for the other directors, please check with me to confirm my availability?

Thank you

Iris

10. Why was the e-mail sent to Mr. Appleby?
- A. To approve his international business trip.
  - B. To request that he organize a telephone meeting.
  - C. To ask him to share his marketing ideas.

- D. To notify him of a conference date.
11. When are presentations scheduled?
- A. On May 15      B. On May 26      C. On May 14      D. On May 3.
12. Who most likely is Ms. Wu?
- A. An appliance technician.      B. An administrative assistant.  
C. A marketing director.      D. A graphic designer.

### Passage 5 【2016-工行】

The daily changes of the market can lead investors astray. The ups and downs make the tendency to look at the portfolio's performance frequently too tempting. This means investors are likely to perceive more risk, forgetting about their long term goals.

When investors log into their trading accounts they can see the potential gain or loss of all of their assets. They can also see the day change on assets which are coded gain and loss. However, it's believed that those who look less get more.

For instance, if you look at FTSE index from today to tomorrow there is a roughly 50% chance that it has gone up or down. If you look at it over a year you may find that 60%--65% of the time it is going up. And if you look over a five-year period you will find that 90% of the time it goes up.

13. According to the passage, investors tend to \_\_\_\_\_.
- A. be concerned about immediate gains and losses  
B. be misled by the daily changes of the market  
C. be attracted by risk rather than long term goals  
D. be worried about the ups and downs of the market
14. What is the example trying to illustrate?
- A. Most investors log into their trading accounts every day.  
B. The potential gain and loss of assets can be predicted.  
C. The investors who seldom check daily changes may get more returns.  
D. The potential growth rate of the portfolio is likely to be fixed.
15. What's the author's suggestion to investors?
- A. Keep themselves from checking their trading accounts

- B. Pay attention to long-term interests rather than short-term ones
- C. Avoid risks in terms of their investment plans
- D. Stick to one portfolio for at least five years

**Passage 6**

For most of the 20th century Smithson's was one of Britain's most successful department stores, but by the mid-1990s, it had become dull. Still profitable, thanks largely to a series of successful advertising campaigns, but decidedly boring. The famous were careful not to be seen there, and its sales staff didn't seem to have changed since the store opened in 1908. Worst of all, its customers were buying fewer and fewer of its own-brand products, the major part of its business, and showing a preference for more fashionable brands.

But now all this has changed, thanks to Rowena Baker, who became Smithson's first woman Chief Executive three years ago. Since then, while most major retailers in Britain have been losing money, Smithson's profits have been rising steadily. When Baker started, a lot of improvements had just been made to the building, without having any effect on sales, and she took the bold decision to invite one of Europe's most exciting interior designers to develop the fashion area, the heart of the store. This very quickly led to rising sales, even before the goods on display were changed. And as sales grew, so did profits.

Baker had ambitious plans for the store from the start. "We're playing a big game, to prove we're up there with the leaders in our sector, and we have to make sure people get that message. Smithson's had fallen behind the competition. It provided a traditional service targeted at middle-aged, middle-income customers, who'd been shopping there for years, and the customer base was gradually contracting. Our idea is to sell such an exciting variety of goods that everyone will want to come in, whether they plan to spend a little or a lot."

16. Which one below is the closest meaning to "decidedly" in paragraph 1?

- A. Exactly
- B. Undoubtedly
- C. Truly
- D. Surely

17. What did Baker do to make sales rise quickly?



- A. Adopted a lot of improvements.
  - B. Invited an European designer to develop the fashion area.
  - C. A series of successful advertising campaigns.
  - D. All of the above.
18. Which one below is the best reason for explaining Smithson's had once fallen behind the competition?
- A. Its sales staff didn't seem to have changed since the store opened in 1908.
  - B. The economic environment was depressing.
  - C. It provided a traditional service targeted at middle-aged, middle-income customers and the customers base was shrinking.
  - D. Its customers were buying fewer and fewer of its own-brand products, which was the major part of its business.
19. According to paragraph 3, what is Baker's idea?
- A. To prove they're up there with the leaders in the sector.
  - B. They're playing a big game.
  - C. To make sure people get the message that they're up.
  - D. To sell an exciting variety of goods that everyone will want to come in.
20. Which one is correct according to this passage?
- A. Smithson's has been one of Britain's most successful department stores all the time.
  - B. Smithson's first woman Chief Executive was Rowena Baker.
  - C. Although sales grew, profits dropped.
  - D. Smithson's customers base was shrinking rapidly.